

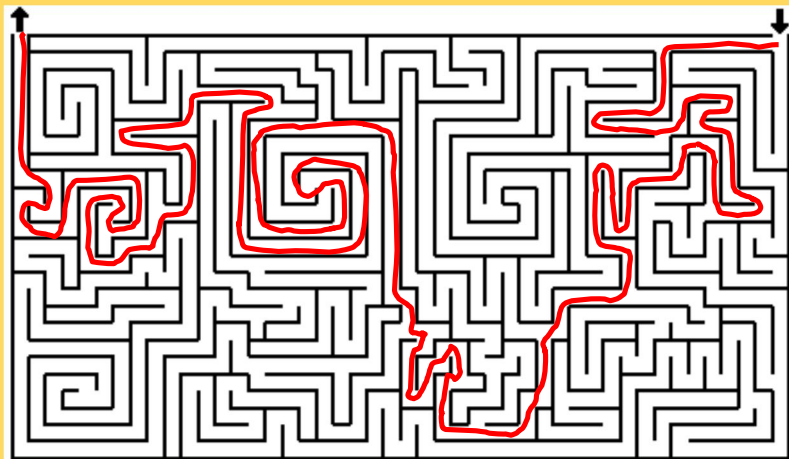
Mozkový jogging 2 (Str. 5)

Představivost

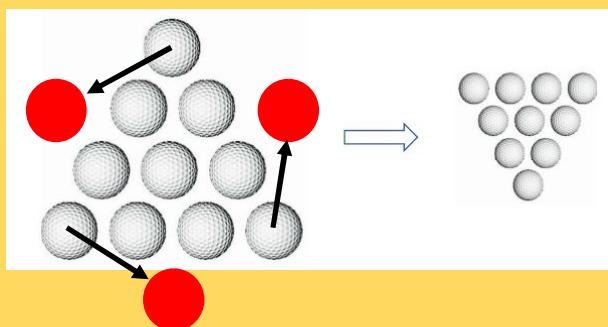
Řešení




1. Najděte cestu bludištěm. Nejlépe bez tužky.



2. Přesuňte tři míčky tak, aby byla pyramida otočená obráceně. Spočítejte čtverce (všech velikostí) na obrázku:



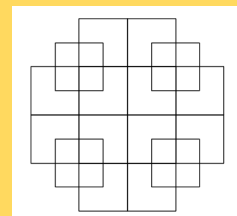
3. Najděte na velkém obrázku předměty zobrazené vedle:



4. Najděte 15 rozdílů mezi obrázky:



5. Spočítejte čtverce na obrázku: $37 = 5$ velkých + 16 středních + 16 malých/dělených



6. Odeberte 4 zápalky tak, aby z 18 čtverců na obrázku zbylo jen 9?

8 malých a 1 velký



Akademik sport
centrum

